


شكراً لتحميلك هذا الملف من موقع المناهج العمانية



## تمارين درس لوحة المائة

موقع المناهج ← المناهج العمانية ← الصف الثاني ← رياضيات ← الفصل الأول ← الملف

## التواصل الاجتماعي بحسب الصف الثاني



## روابط مواد الصف الثاني على تلغرام

[الرياضيات](#)

[اللغة الانجليزية](#)

[اللغة العربية](#)

[التربية الاسلامية](#)

## المزيد من الملفات بحسب الصف الثاني والمادة رياضيات في الفصل الأول

<a href="#">أنشطة وأوراق عمل</a>	1
<a href="#">دفتر التلميذ</a>	2
<a href="#">أوراق عمل غير محلولة</a>	3
<a href="#">تمارين درس لوحة المائة</a>	4
<a href="#">دفتر التلميذ</a>	5

تذكر يا صغيري أن :

- عند العد بشكل أفقي ( صفوف ) فأننا ( نعد الآحاد ونثبت العشرات )
- عند العد بشكل عمودي ( أعمده ) فأننا ( نثبت الآحاد ونعد العشرات )

أكمل يا بطل كتابة الأعداد الناقصة في لوحة المائة:

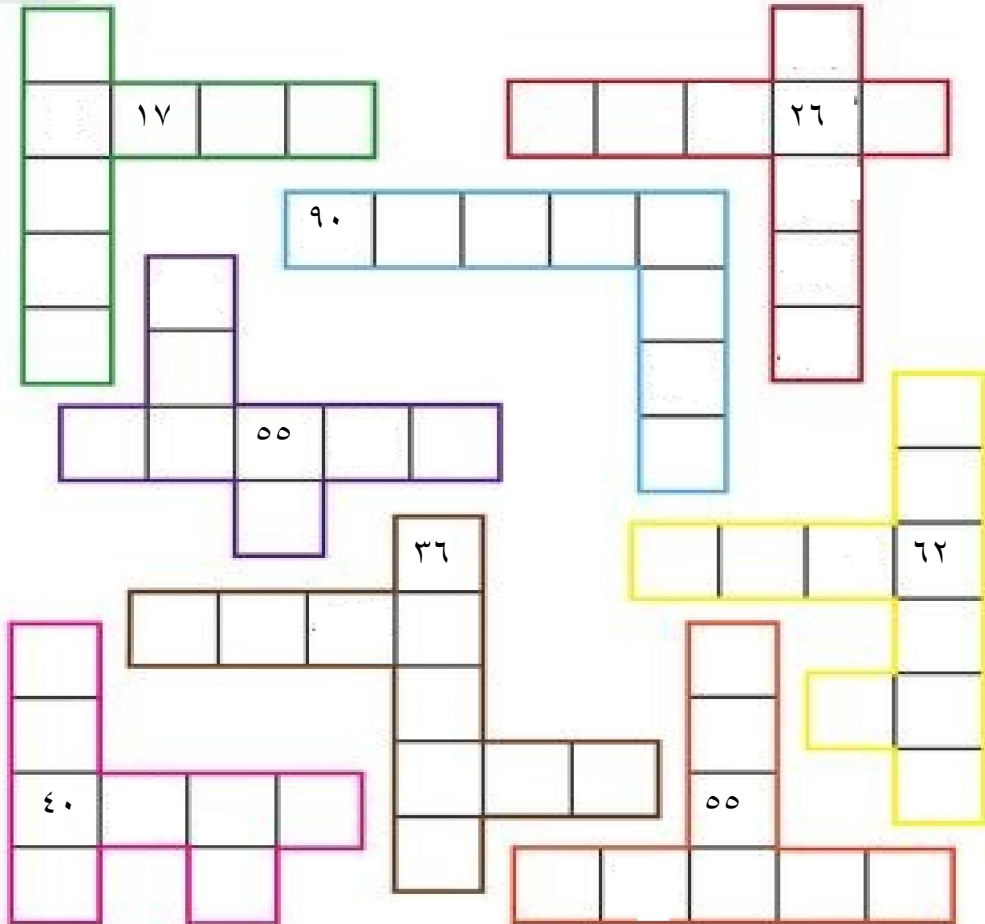
موقع المناهج العمانية  
alManahj.com/om

اكتب الأعداد حسب المطلوب:






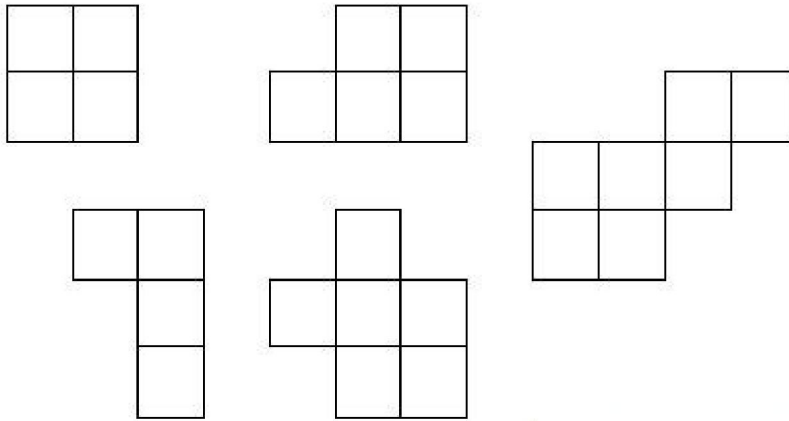
## الغاز:

- تحرك ٥ مربعات يمينا من العدد ٢٢ ما هو العدد الذي ستصل إليه.  
.....
- تحرك ٣ مربعات يسار من العدد ٧٣ ومن ثم اتجهت الى اعلى بمقدار ٦ مربعات ما هو العدد الذي ستصل إليه.  
.....
- في لوحة المائة أكتب جميع الاعداد التي تحتوي على الرقم ٤  
.....  
.....
- ما هو العدد الذي يتكون من ٢ عشرات و ٦ آحاد .  
.....
- ما هو الصف الذي يحتوي جميع أعداد في منزله العشرات الرقم ٨  
.....
- ما هو العمود أي يحتوي جميع أعداد في منزله الآحاد على الرقم ٤  
.....
- أكمل الأعداد الناقصة



## ركز يا صغيري في لوحة المائة واستنتج الأعداد الناقصة:

١٠	٩	٨		٦	٥	٤	٣	٢	١
٢٠	١٩				١٥	١٤	١٣	١٢	١١
٣٠	٢٩	٢٨			٢٥			٢٢	٢١
٤٠	٣٩	٣٨	٣٧	٣٦	٣٥	٣٤		٣٢	٣١
٥٠	٤٩	٤٨	٤٧	٤٦	٤٥	٤٤		٤٢	٤١
٦٠	٥٩	٥٨			٥٥	٥٤	٥٣		
٧٠				٦٦	٦٥	٦٤	٦٣		
٨٠			٧٧	٧٦	٧٥	٧٤	٧٣	٧٢	٧١
٩٠	٨٩	٨٨	٨٧	٨٦	٨٥			٨٢	٨١
١٠٠	٩٩	٩٨	٩٧	٩٦				٩٢	٩١



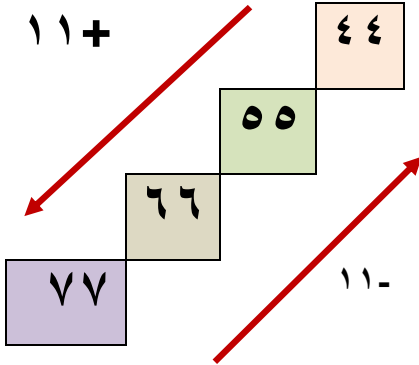
تذكر يا بطل :

- عندما تعد في الصفوف فإنك دائما تعد في الأحاد
- عندما تعد في الأعمدة فإنك دائما تعد في العشرات

## تساعدك لوحة المائة على العد قطريا يمينا أو قطريا يسارا

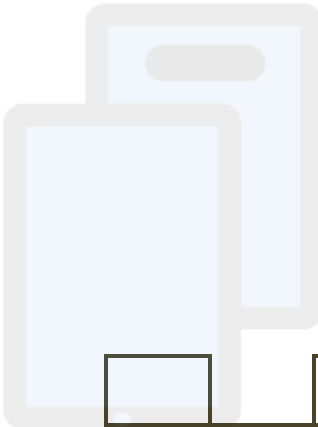
قطريا يمينا (زياده واحد آحاد وواحد عشرات)  
أي بمقدار ( ١١+ ).

والعكس عند الرجوع من اسفل الى اليمين  
( نقص بمقدار واحد آحاد وواحد عشرات )  
أي بمقدار ( ١١- ).

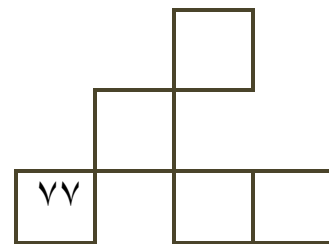
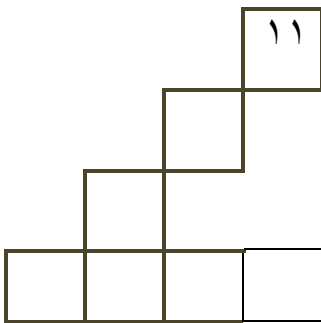


تدريبات :

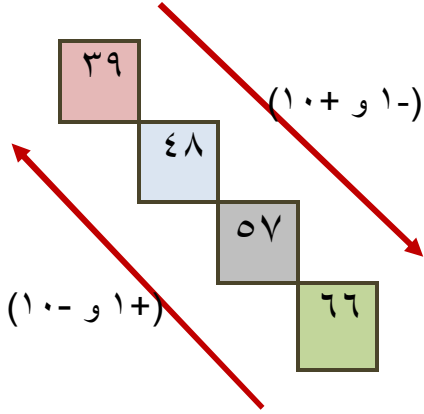
أكمل العداد الناقصة :



تم تجميل هذا الملف من  
موقع المناهج العمانية  
alManahj.com/om



## تساعدك لوحة المائة على العد قطريا يسارا

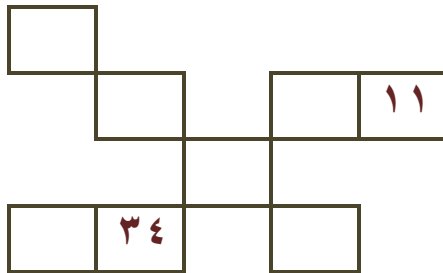
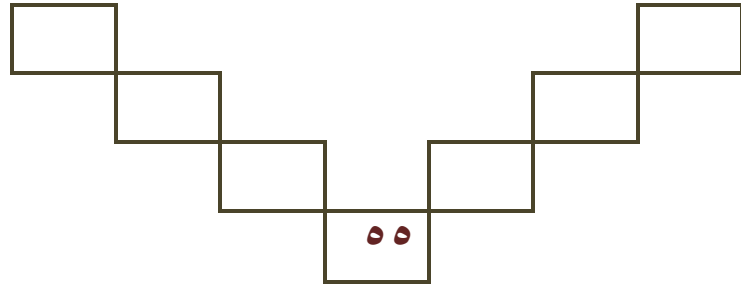
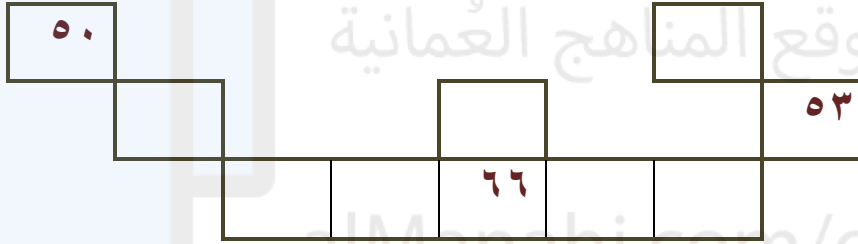
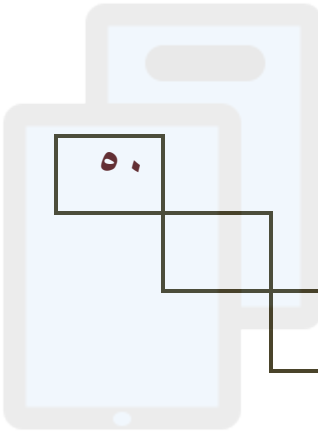


قطريا يسارا ( ينقص واحد آحاد ويزيد واحد عشرات )  
أي بمقدار ( ١٠ + و ١ - ) .

والعكس عند الرجوع قطريا من الاسفل الى اليمين  
( ننقص بمقدار واحد آحاد ونزيد واحد عشرات )  
أي بمقدار ( ١٠ - و ١ + ) .

## تدريبات :

أكمل العداد الناقصة :



تتغير الأعداد كلما اتجهت إلى أعلى أو إلى أسفل ، يمينا أو يسارا أو قطريا حسب الأسهم  
الموضحة أمامك:



قطري يسار



قطري يمين



أعلى



أسفل



يسار



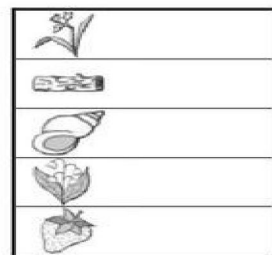
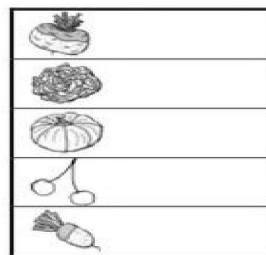
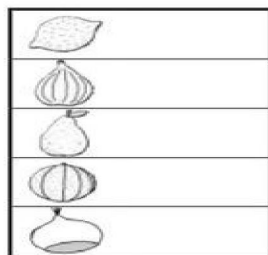

يمين

٣٩		
٤٩	٤٨	٤٧
		٥٧

تمريبات :







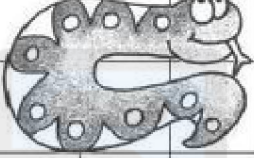








صف النمط التالي ابتداء من ٣٩

هيا يا صغيري اكتشف الأعداد التي تمثلها المصورات في لوحة المائة:



وجدت ديدان كثيرة على لوحة المائة مما أدت إلى تغطيه بعض الأعداد في لوحة المائة، هل تستطيع يا صيري مساعدتي في إيجاد هذه الأعداد:

١٠	٩	٨	٧	٦		٤	٣	٢	
٢٠	١٩	١٨		١٦		١٣	١٢		
٣٠	٢٩	٢٨	٢٧		٢٥	٢٤	٢٣		
٤٠				٣٦	٣٥		٣٣	٣٢	٣١
				٤٦		٤٤	٤٣	٤٢	٤١
	٥٩	٥٨	٥٧	٥٦		٥٤	٥٣	٥٢	٥١
٧٠		٦٨	٦٧	٦٦				٦٢	٦١
		٧٨	٧٧		٧٥	٧٤	٧٣	٧٢	٧١
٩٠	٨٩		٨٧				٨٣		
		٩٨		٩٦	٩٥		٩٣		

