



حصة
متزامنة
أنا والرياضيات
العدد ثلاثات وأربعات

اعداد

هبة نجم الدين عابدين
شيرين احمد المنتصر
عزة عبده عبد الحميد

المادة

٢ العدد - ٢٥
ثلاثات واربعات

رياضيات
الصف الثاني

عنوان الدرس

almanah.com

قواعد الحصة المترامنة

اخلاق المايك والكاميرا



طلب المساعدة لتشغيل الجهاز



أجلن حتى انتهاء الوقت



أجلن جلسة صحيحة



الاستئذان من المعلمة لتدوين الملاحظات



التأكد من احضار الأدوات قبل الحصة



الاستئذان عند المشاركة في الحديث



التاريخ / /
بسم الله الرحمن الرحيم
العدد ثلاثيات واربعيات



almanahj.com

الأهداف / المخرجات التعليمية

2Nn5

يبدأ بالعد بخطوات صغيرة وثابته مثلا الثلاثات والاربعات

2NC22

يحل حقائق الضرب والقسمة لجبرلي ٣، ٤



انا استطيع

يستطيع ان يستخدم العد التصاعدي
بالقفز ثلاثيات واربعات للتوصل الى
حل المشكلة



22

تعلم قبلي

18

تصاعدي



والان هيا نعد
تصاعديا" اثنتان
ونكمل البطاقات
الناقصة

1 8 10
4 2 1
0 6

12

4

2



almanah.com/vom

التمهيد

١٠	٩	٨	٧	٦	٥	٤	٣	٢	١
٢٠	١٩	١٨	١٧	١٦	١٥	١٤	١٣	١٢	١١
٣٠	٢٩	٢٨	٢٧	٢٦	٢٥	٢٤	٢٣	٢٢	٢١
٤٠	٣٩	٣٨	٣٧	٣٦	٣٥	٣٤	٣٣	٣٢	٣١
٥٠	٤٩	٤٨	٤٧	٤٦	٤٥	٤٤	٤٣	٤٢	٤١
٦٠	٥٩	٥٨	٥٧	٥٦	٥٥	٥٤	٥٣	٥٢	٥١
٧٠	٦٩	٦٨	٦٧	٦٦	٦٥	٦٤	٦٣	٦٢	٦١
٨٠	٧٩	٧٨	٧٧	٧٦	٧٥	٧٤	٧٣	٧٢	٧١
٩٠	٨٩	٨٨	٨٧	٨٦	٨٥	٨٤	٨٣	٨٢	٨١
١٠٠	٩٩	٩٨	٩٧	٩٦	٩٥	٩٤	٩٣	٩٢	٩١

من يقوم بالعد خمسات
على لوحة المائة بداية من
العدد 5

سير الدرس

١٠	٩	٨	٧	٦	٥	٤	٣	٢	١
٢٠	١٩	١٨	١٧	١٦	١٥	١٤	١٣	١٢	١١
٣٠	٢٩	٢٨	٢٧	٢٦	٢٥	٢٤	٢٣	٢٢	٢١
٤٠	٣٩	٣٨	٣٧	٣٦	٣٥	٣٤	٣٣	٣٢	٣١
٥٠	٤٩	٤٨	٤٧	٤٦	٤٥	٤٤	٤٣	٤٢	٤١
٦٠	٥٩	٥٨	٥٧	٥٦	٥٥	٥٤	٥٣	٥٢	٥١
٧٠	٦٩	٦٨	٦٧	٦٦	٦٥	٦٤	٦٣	٦٢	٦١
٨٠	٧٩	٧٨	٧٧	٧٦	٧٥	٧٤	٧٣	٧٢	٧١
٩٠	٨٩	٨٨	٨٧	٨٦	٨٥	٨٤	٨٣	٨٢	٨١
١٠٠	٩٩	٩٨	٩٧	٩٦	٩٥	٩٤	٩٣	٩٢	٩١

والان هيا بينا
نعد ثلاثات
بداية من 3
على لوحة
المائة يا

رفاقي الاعزاء

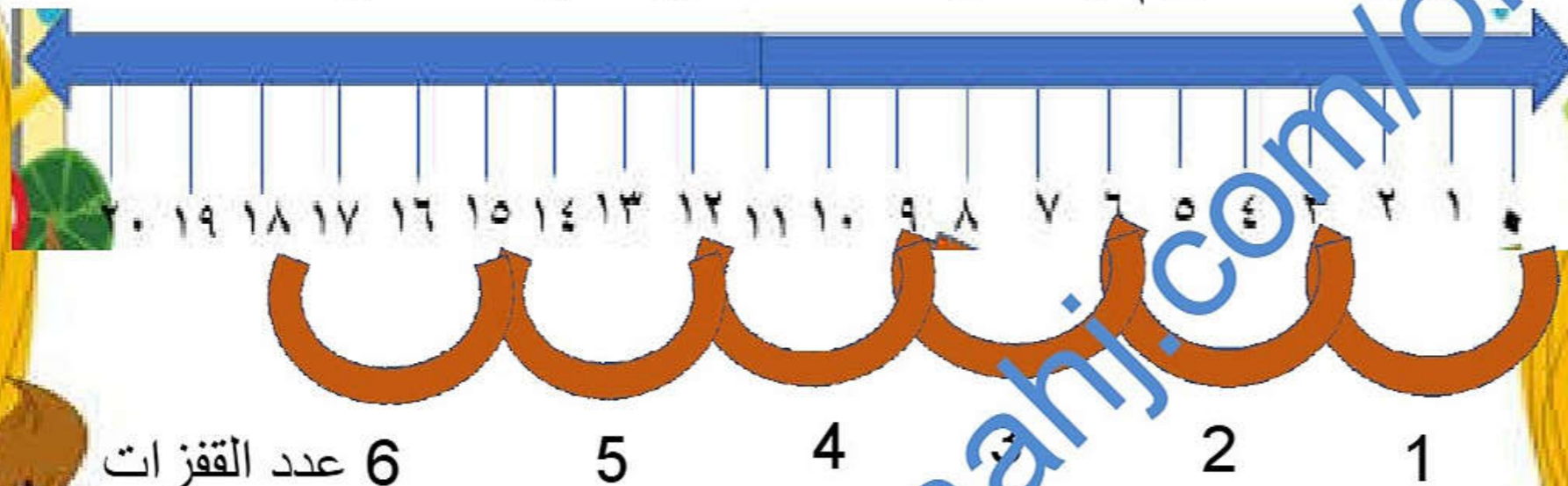


١٠	٩	٨	٧	٦	٥	٤	٣	٢	١
٢٠	١٩	١٨	١٧	١٦	١٥	١٤	١٣	١٢	١١
٣٠	٢٩	٢٨	٢٧	٢٦	٢٥	٢٤	٢٣	٢٢	٢١
٤٠	٣٩	٣٨	٣٧	٣٦	٣٥	٣٤	٣٣	٣٢	٣١
٥٠	٤٩	٤٨	٤٧	٤٦	٤٥	٤٤	٤٣	٤٢	٤١
٦٠	٥٩	٥٨	٥٧	٥٦	٥٥	٥٤	٥٣	٥٢	٥١
٧٠	٦٩	٦٨	٦٧	٦٦	٦٥	٦٤	٦٣	٦٢	٦١
٨٠	٧٩	٧٨	٧٧	٧٦	٧٥	٧٤	٧٣	٧٢	٧١
٩٠	٨٩	٨٨	٨٧	٨٦	٨٥	٨٤	٨٣	٨٢	٨١
١٠٠	٩٩	٩٨	٩٧	٩٦	٩٥	٩٤	٩٣	٩٢	٩١

والان هيا بينا
 نعد اربعات
 بداية من 4
 على لوحة
 المائة يا
 رفاقي الاعزاء



سوف نقوم بالقفز ثلاثيات ونقفز 6 قفزات



$$18 = 6 \times 3$$

$$6 = 3 \div 20$$

والباقي اثنان (2)

مسألة

يحتاج كل تلميذ
إلى ثلاثة عيدان
لصنع مجسم.
يوجد 20 عودا
"لصنع مجسم؟ كم
تلميذا يستطيع
صنع مجسم

هيا " نلعب مع الأبواب الملونة
وخلف كل باب سؤال يبحث عن
الاجابة

almanah.com/om



الأبواب الملونة

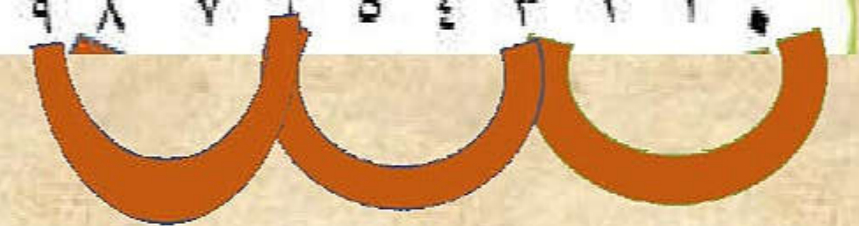

اكل ادم في اول
يوم 3 قطع من
الحلوى
كم قطعة سيأكل
لمدة 3 ايام؟

$$3 = 1 \times 3$$

$$6 = 2 \times 3$$

$$15 = 5 \times 3$$

$$9 = 3 \times 3$$



تريد حنان ان تصنع
عقد من 4 صفوف
في كل صف وضعت
3 خرزات كم خرزة
سوف تحتاجها لصنع
العقد

$$6 = 2 \times 3$$

$$12 = 4 \times 3$$

$$15 = 5 \times 3$$

$$18 = 6 \times 3$$

20 19 18 17 16 15 14 13 12 11 10 9 8 7 6 5 4 3 2 1

مع احمد ٥
برتقالات ومع
عدى ضعف
العدد الذي مع
احمد ٣ مرات

$$6 = 2 \times 3$$

$$12 = 4 \times 3$$

$$15 = 5 \times 3$$

$$18 = 6 \times 3$$

٢٠ ١٩ ١٨ ١٧ ١٦ ١٥ ١٤ ١٣ ١٢ ١١ ١٠ ٩ ٨ ٧ ٦ ٥ ٤ ٣ ٢ ١

كم ضلعا"
في مثلثات

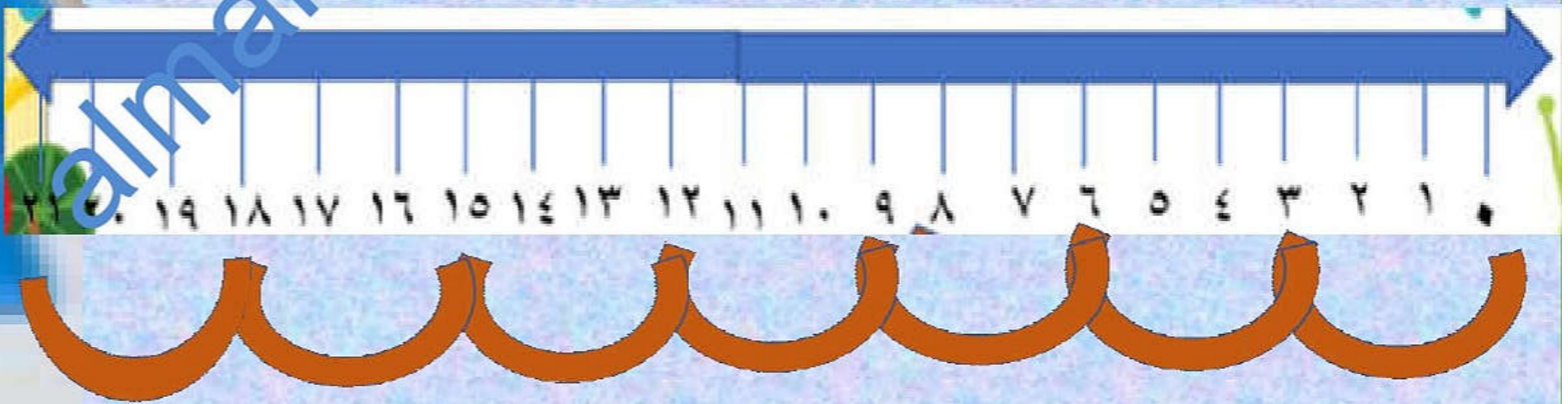
$$21 = 7 \times 3$$

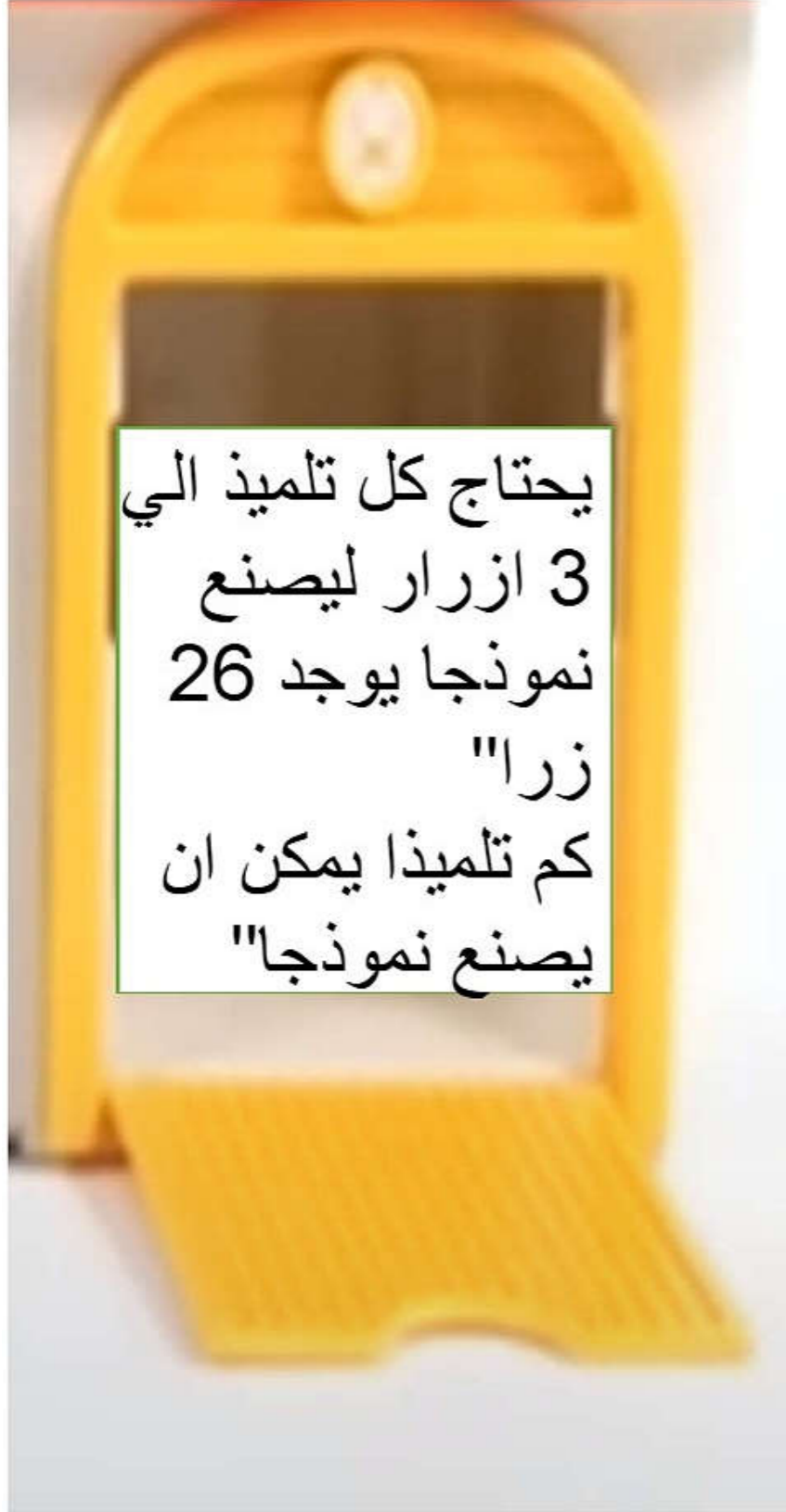
$$9 = 3 \times 3$$

$$6 = 2 \times 3$$

$$= 5 \times 3$$

15





26 ÷ 3 = 8 والباقي 2

26 ÷ 3 = 8 والباقي 1

26 ÷ 3 = 8 ولا يوجد باقي

26 = 8 × 3

26 25 24 23 22 21 20 19 18 17 16 15 14 13 12 11 10 9 8 7 6 5 4 3 2 1 0

24 = 8 × 3

جدول ضرب ٣

٠	=	٠	×	٣
٣	=	١	×	٣
٦	=	٢	×	٣
٩	=	٣	×	٣
١٢	=	٤	×	٣
١٥	=	٥	×	٣
١٨	=	٦	×	٣
٢١	=	٧	×	٣
٢٤	=	٨	×	٣
٢٧	=	٩	×	٣
٣٠	=	١٠	×	٣
٣٣	=	١١	×	٣
٣٦	=	١٢	×	٣

almanahj.com/om

وهيا والان
نستمع الى
جدول ضرب
(٣) مع
المعلمة






<https://wordwall.net/ar/resource/6111515>

والآن هيا نلعب مع
Word wall



والان مع التعلم الذاتي بالبطال

اكتب عمرك ثم اضرب عمرك في 3
اكتب الجملة العددية



المنهج.com/om

مسائل

مسائل

مسائل





مسألة

يأكل الخروف أربع حزم
من العلف في أسبوع. كم
حزمة سيأكل في
أسبوعين؟ « أسأل
التلميذ كيف يمكننا أن
نعرف عدد الحزم
التي أكلها في
اسبوعين



كم عجلة توجد في 4 سيارات

$$8 = 2 \times 4$$

$$12 = 3 \times 4$$

$$4 = 1 \times 4$$

$$16 = 4 \times 4$$

مسألة

عدد القفزات

4

3

2

1

عدد التفاح على
الشجرة 5 تفاحات
كم يكون الناتج عند
ضربه في 4


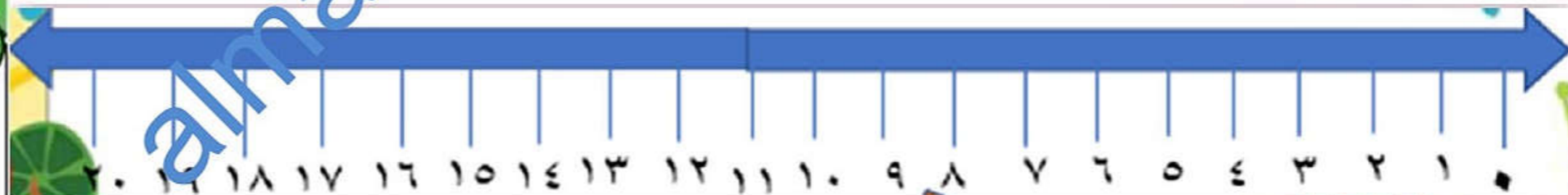


$$16 = 4 \times 4$$

$$12 = 3 \times 4$$

$$28 = 7 \times 4$$

$$20 = 5 \times 4$$



جدول ضرب ٤

٠	=	٠	×	٤
٤	=	١	×	٤
٨	=	٢	×	٤
١٢	=	٣	×	٤
١٦	=	٤	×	٤
٢٠	=	٥	×	٤
٢٤	=	٦	×	٤
٢٨	=	٧	×	٤
٣٢	=	٨	×	٤
٣٦	=	٩	×	٤
٤٠	=	١٠	×	٤
٤٤	=	١١	×	٤
٤٨	=	١٢	×	٤

almanahi.com/mom

وهيا والان
نستمع الى
جدول ضرب
(٤) مع
المعلمة

مَوَاقِفُ السَّيَّارَاتِ

(١) كم عدد العجلات الموجودة في مواقف السيارات؟



١٠	٩	٨	٧	٦	٥	٤	٣	٢	١
٢٠	١٩	١٨	١٧	١٦	١٥	١٤	١٣	١٢	١١
٣٠	٢٩	٢٨	٢٧	٢٦	٢٥	٢٤	٢٣	٢٢	٢١
٤٠	٣٩	٣٨	٣٧	٣٦	٣٥	٣٤	٣٣	٣٢	٣١
٥٠	٤٩	٤٨	٤٧	٤٦	٤٥	٤٤	٤٣	٤٢	٤١
٦٠	٥٩	٥٨	٥٧	٥٦	٥٥	٥٤	٥٣	٥٢	٥١
٦٠	٦٩	٦٨	٦٧	٦٦	٦٥	٦٤	٦٣	٦٢	٦١
٨٠	٧٩	٧٨	٧٧	٧٦	٧٥	٧٤	٧٣	٧٢	٧١
٩٠	٨٩	٨٨	٨٧	٨٦	٨٥	٨٤	٨٣	٨٢	٨١
١٠٠	٩٩	٩٨	٩٧	٩٦	٩٥	٩٤	٩٣	٩٢	٩١

استخدم لوحة العدد
بمساعدة العد أربعين.



(٢) اصنع نمطاً من مثلثات كثيرة.

كم عدد الرؤوس الموجودة؟

عد ثلاث لمعرفة الإجابة.

الوحدة ١٣ النشاط الأساسي ٢٦-٢٧ ثلاث وأربعين

٣٢



الرياضيات

كتاب التلميذ



الفصل الدراسي الثاني

الطبعة التجريبية ١٤٣٨ هـ - ٢٠١٧ م

CAMBRIDGE
UNIVERSITY PRESS

تفريد التعليم



نشاط مثابره

١٠	٩	٨	٧	٦	٥	٤	٣	٢	١
٢٠	١٩	١٨	١٧	١٦	١٥	١٤	١٣	١٢	١١
٣٠	٢٩	٢٨	٢٧	٢٦	٢٥	٢٤	٢٣	٢٢	٢١
٤٠	٣٩	٣٨	٣٧	٣٦	٣٥	٣٤	٣٣	٣٢	٣١
٥٠	٤٩	٤٨	٤٧	٤٦	٤٥	٤٤	٤٣	٤٢	٤١
٦٠	٥٩	٥٨	٥٧	٥٦	٥٥	٥٤	٥٣	٥٢	٥١
٧٠	٦٩	٦٨	٦٧	٦٦	٦٥	٦٤	٦٣	٦٢	٦١
٨٠	٧٩	٧٨	٧٧	٧٦	٧٥	٧٤	٧٣	٧٢	٧١
٩٠	٨٩	٨٨	٨٧	٨٦	٨٥	٨٤	٨٣	٨٢	٨١
١٠٠	٩٩	٩٨	٩٧	٩٦	٩٥	٩٤	٩٣	٩٢	٩١

نشاط اثرائي

كم مجلة يمكن أن تشتري إذا
كان ثمن كل مجلة 5
ريالات؟
هل سي تبقى معي مال

إعطاء الطلاب لوحة المائة
وتلوين نمط الثلاثات
والاربعات

في الدراجة الثلاثية العجلات ثلاث عجلات .
كم عجلة توجد إذا كان هناك 6 دراجات ثلاثية العجلات؟

كم عجلة توجد في 7 سيارات؟

لدي 17 عجلة.
كم سيارة يمكنني أن أصنع؟
كم عجلة سيبقى لدي؟

يوجد 28 رجلاً في فرقة الأيقار.
كم بقرة توجد في المزرعة؟

كم ضلعاً يوجد لـ 6 مثلثات؟

تسعى من 7 قُرود 3 موزات،
كم نوع الموزات لدى القُرود؟



الواجب
حل صفحة كتاب
النشاط



اعداد



أ/ هبة نجم
الدين



أ/ شيرين احمد
المنتصر



الأخيرة عبده
عبد الحميد



انتهي الدرس



الي اللقاء